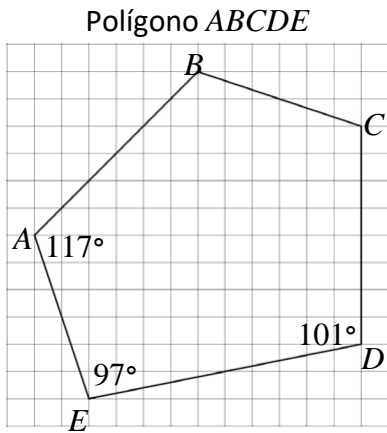


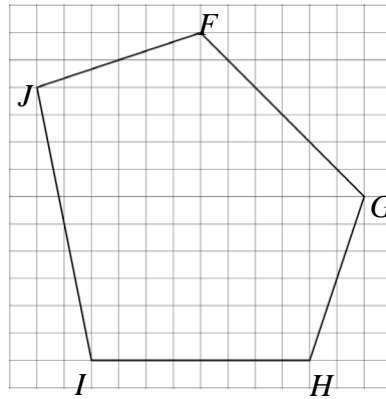
## POLÍGONOS CONGRUENTES: NOTAS GUIADAS

Todos estos pentágonos son congruentes. Marca cada polígono e identifica las partes correspondientes. Escribe una declaración de congruencia para cada uno.

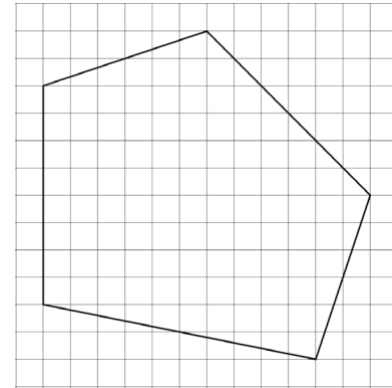
Polígonos con la misma forma y tamaño son **congruentes**. Polígonos congruentes tienen correspondientes ángulos y lados congruentes.



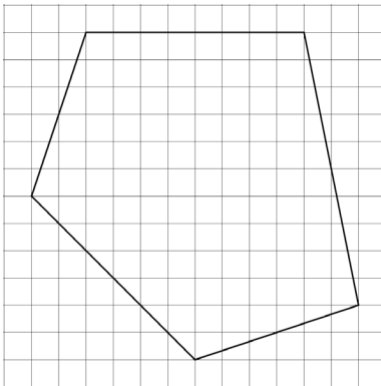
$ABCDE$  girado  $90^\circ$  CW  
 $ABCDE \cong$  \_\_\_\_\_



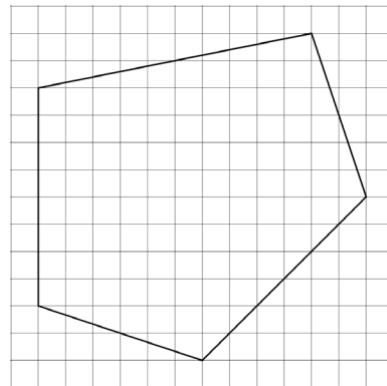
Reflexión horizontal de  $ABCDE$   
 $ABCDE \cong$  \_\_\_\_\_



$ABCDE$  girado  $90^\circ$  CCW  
 $ABCDE \cong$  \_\_\_\_\_



$ABCDE$  girado  $180^\circ$  CW  
 $ABCDE \cong$  \_\_\_\_\_



Reflexión vertical de  $ABCDE$   
 $ABCDE \cong$  \_\_\_\_\_

