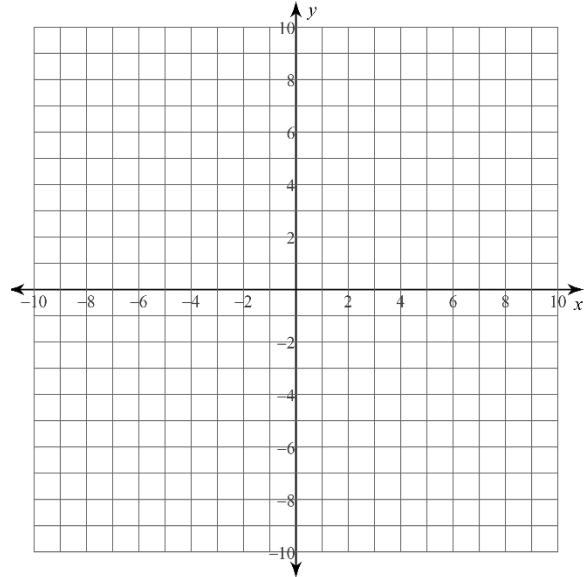


## GRÁFICA CON ASÍNTOTAS

Grafica cada función racional. Asegúrate de etiquetar las asíntotas.

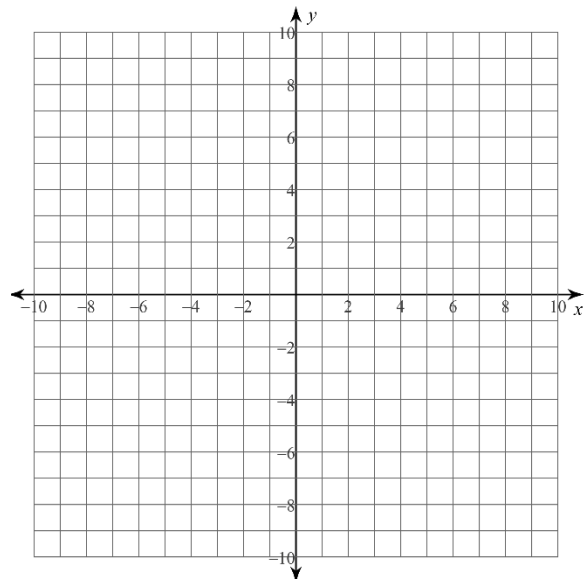
1)  $y = \frac{x-1}{x+3}$

x	y



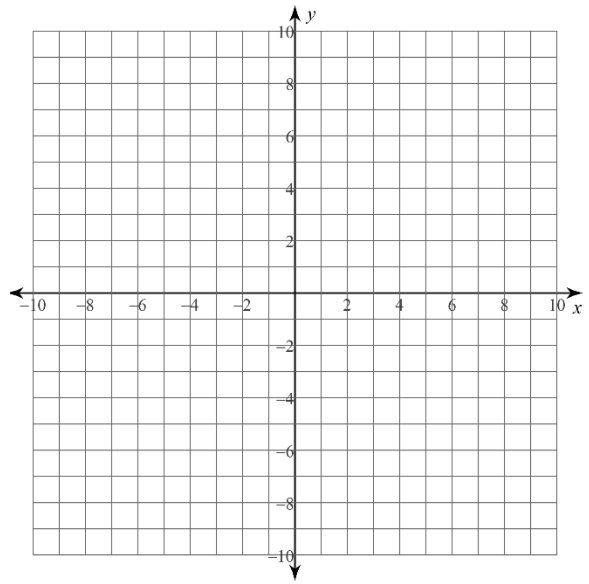
2)  $f(x) = \frac{3}{x+1}$

x	y



3)  $y = \frac{4}{x-2} + 2$

x	y



4)  $g(x) = \frac{-2x}{x-3} - 1$

x	y

